

**NIRMALA MATHA CENTRAL
SCHOOL, THRISSUR**

CLASS IV

QUESTION BANK

PART I

2023-24

III. Read the extract and answer:-

- a) "There is a cottage close by"
- Who said this and to whom?
 - Why is the speaker looking for a cottage?
 - Give the meaning of the word "close".
- b) "But I have been wondering how I would earn my bread".
- Who said this and to whom?
 - What was the speaker's worry?
 - Why was the speaker worried?

IV. Answer the following:-

- a) How did the master behave when the donkey became old?
- b) '.....the Musicians of Bremen soon fell asleep'. Who were the 'Musicians of Bremen'? Where did they fall asleep?

Lesson 3

The Homework Machine

I. Give antonyms

- a) Huge b) open

II. Frame sentences

- a) Rumbled b) peered

III. Read the extract and answer:-

- a) "Come on Ranjit! Come on, Rani!"
- Who said this and to whom?
 - Why is the robot calling the children?
 - Name the lesson.
- b) "Rani, press the button for the abacus".
- Who is Rani?
 - What did the robot ask her to do?
 - Give the meaning of the word "abacus".

IV. Answer the following:-

- a) What did Homi tell Ranjit to do?
- b) Why were pyramids filled with gems, food, and clothes?

Lesson 4

The Magi Virus

I. Give antonyms

- a) Usual
- b) realise

II. Frame sentences

- a) unusual
- b) longingly

III. Read the extract and answer:-

- a) "He began experimenting on his patients and on himself".
 - i) Who is 'he' here?
 - ii) What and why is he experimenting?
 - iii) Give the meaning of the word "experimenting".
- b) "On returning to his hometown, he began to give the virus to the other people".
 - i) Who began giving the virus?
 - ii) Why did he give the virus to the other people?
 - iii) What virus is being referred to here?

IV. Answer the following:-

- a) Why did some people get seriously ill?
- b) How did the virus move to the other towns?

മലയാളം

പാഠം 1

എന്റെ ഭാഷ

1. “എന്റെ ഭാഷ” എന്ന കവിത ഏത് കവിതാസമാഹാരത്തിൽ നിന്ന് എടുത്തിട്ടുള്ളതാണ്?
2. കുഞ്ഞിന്റെ ചുണ്ടിൽ ആദ്യമായി സമ്മേളിക്കുന്ന അക്ഷരങ്ങൾ ഏതൊക്കെയാണ്?
3. മറ്റുള്ള ഭാഷകൾ ആരാണെന്നാണ് കവി പറയുന്നത്?
4. പൈതങ്ങൾ പൂർണ്ണവളർച്ച നേടണമെങ്കിൽ എന്താണ് വേണ്ടത്?
5. അമൃതപോലും അമൃതായ് തോന്നണമെങ്കിൽ ആരാണ് അത് പകർന്നു തരേണ്ടത്?
6. “എന്റെ ഭാഷ” എന്ന കവിത രചിച്ചതാര്?
7. ‘വള്ളത്തോൾ’ ഏത് കവിത്രയത്തിൽ പെടുന്നു?
8. ആധുനിക കവിത്രയത്തിൽ പെടുന്ന കവികൾ ആരെല്ലാം?
9. മർത്യനു പെറ്റമ്മ ഏതു ഭാഷയാണെന്നാണ് പറയുന്നത്?
10. മിന്നിച്ചു നിൽക്കുന്ന തുമുത്തുകൾ - തുമുത്തുകൾ എന്നു വിശേഷിപ്പിക്കുന്നത് ആരെയാണ്?

പാഠം 2

ഒരു പുഴയുടെ പുനർജന്മം

1. അതോടെ തുടക്കമായി.
2. കാടുകൾ വളർന്നു നിന്നിരുന്ന രാജ്യം
3. എന്തുചെയ്യണമെന്നറിയാതെ വിഷമിച്ചു.
4. പാടങ്ങൾ ഉണങ്ങി
5. “പണ്ട് പണ്ട് ഈ നാട്ടിലൂടെ ഒരു പുഴ ഒഴുകിയിരുന്നു.” - ഇത് പറഞ്ഞതാര്?
6. രാജഗുരുതപസ്സു ചെയ്തിരുന്നത് എവിടെ?
7. നമ്മുടെ രാജ്യത്തിന്റെ കിഴക്കെ അതിരിലെ ആയിരുന്നു പുഴ ആരംഭിച്ചിരുന്നത്?
8. കാവൽ ശക്തമാക്കിയത് ആര്?
9. നാടുമുഴുവൻ പ്രകൃതിസംരക്ഷണ പ്രവർത്തനങ്ങൾ
10. സാവധാനം പർവതത്തിന്റെ മുകളിൽ ഒരു

11. പുഴ, കളകളും പാടി ഒഴുകി.
12. പുഴ വീണ്ടും ജനിച്ചത് കാണാൻ ആരെല്ലാം എത്തി?

പാഠം 3

പൂക്കാലം

1. പൂക്കാലം എന്ന കവിത എഴുതിയത് ആര്?
2. ഏതെല്ലാം ചെടികളാണ് പൂക്കുന്നത്?
3. രാവിലെ എന്താണ് കാണുന്നത്?
4. പൊന്നിൻ നിറം പൂണ്ടു നിൽക്കുന്നത് ആര്?
5. തേനീച്ചകൾ പൂവുതേടുന്നത് എപ്പോൾ?
6. വാനിലൂടെ നെല്ലിൻ കതിർക്കാമ്പുകൊത്തി പറന്നുപോകുന്നത് ആര്?
7. തന്റെ ശബ്ദത്താൽ എല്ലാവർക്കും സന്തോഷം നൽകുന്നത് ആര്?
8. ദേവാലയത്തിലെ വാദ്യങ്ങൾ വിളിച്ചുപറയുന്നത് എന്ത്?
9. സന്ധ്യാസമയത്ത് ആളുകൾ വന്നുചേർന്നത് എവിടെ

പാഠം 4

സഹപാഠി

1. മഥുരാപുരിയുടെ അടുത്തുള്ള ഗ്രാമത്തിൽ താമസിച്ചിരുന്നത് ആര്?
2. സുദാമൻ - എങ്ങനെയുള്ള വ്യക്തിയായിരുന്നു?
3. ദാമരകാധിപതി ആരാണ്?
4. സുദാമന്റെ സതീർത്ഥ്യൻ ആരാണ്?
5. സതീർത്ഥ്യൻ - എന്ന വാക്കിന്റെ അർത്ഥം?
6. പട്ടിണി കിടന്നാലും വയ്ക്കുന്ന അഭിപ്രായക്കാരനായിരുന്നു സുദാമൻ.
7. ആ സാധുസ്ത്രീ അത് ഒരു പൊതിഞ്ഞു ഭർത്താവിനെ ഏൽപ്പിച്ചു.
8. കൃഷ്ണനും സുദാമനും എവിടെയാണ് ഒപ്പം പഠിച്ചത്?
9. 'സുദാമൻ' - എന്ന പേര് കേട്ട ഉടൻ ശ്രീകൃഷ്ണൻ എന്തുചെയ്തു?
10. പോലെയുള്ള ഈ അവിൽ അങ്ങ് എന്തിനാണ് മറച്ചുവെച്ചത്?
11. മടങ്ങിയെത്തിയ സുദാമൻ ഓലമേഞ്ഞ തന്റെ വീടിന്റെ സ്ഥാനത്ത് എന്താണ് കണ്ടത്?
12. മണിമാളികയുടെ വാതിൽ തുറന്ന് ആരാണ് ഇറങ്ങിവന്നത്?
13. കണക്കില്ലാത്ത സമ്പത്തിൽ അഹങ്കരിക്കാതെ സുദാമനും പത്നിയും എന്തു ചെയ്തു?

HINDI

पाठ - 1

है स्वर्ग से भी अच्छा

I. एक शब्द में उत्तर लिखो।

1. हमारा वतन का नाम क्या है?
2. इस कविता के रचयिता कौन है?
3. हमारा जीवन कैसा है?
4. हमारी विचारधारा कैसी है?
5. भारत वतन किससे अच्छा है?
6. हमने भगवान को किसमें निहारा है?

II. पूरा करो।

1. एक दुनिया, इसका रहा है नारा।
2. हम हैं इसके।
3. यह है हमारा।
4. सबके लिए खुला है का कोष सारा।

पाठ - 2

पूँछ की पूँछ

I. एक शब्द में उत्तर लिखो।

1. एक वैज्ञानिक का नाम लिखो।
2. जानवरों के गोष्ठी में किस के बारे में विचार किया गया?
3. पूँछ से कौन मक्खियाँ उड़ाते हैं?
4. खुशी और प्यार दिखाने के लिए कौन पूँछ हिलाता है?
5. कौन अपनी पूँछ से संतुलन बनाए रखता है?

6. किसकी पूँछ खतरा देखने पर झंडे की तरह खड़ी हो जाती है?
7. कौन सा जानवर पूँछ से टाँग का काम करता है?
8. कौन अपनी पूँछ चालाकी से इस्तेमाल करती है?

II. किसने कहा।

1. मैं जब गुस्सा करूँगी तो पूँछ हिलाऊँगी।
2. हाँ भाई, इसका कुछ तो उपयोग होना चाहिए।
3. मैं एक जगह से दूसरी जगह कूदने के लिए पूँछ का इस्तेमाल करूँगा।
4. वाह, क्या पूँछ है।

III. पूरा करो।

1. को कुत्ते की बात बुरी लगी।
2. गाय बहन तुम सच में हो।
3. प्रसिद्ध वैज्ञानिक ने कहा था कि पहले मनुष्य की पूँछ होती थी।
4. जो चीज़ काम में नहीं लाई जाती वह हो सकती है।

IV. हाँ या नहीं

1. जानवरों की पूँछ किसी काम की नहीं होती।
2. गिलहरी खतरे से बचने के लिए अपनी पूँछ छोड़कर आगे निकल जाती है।
3. कुत्ता खुशी और प्यार दिखाने के लिए अपनी पूँछ हिलाता है।
4. डार्विन जी ने कहा था पहले मनुष्य की पूँछ होती थी।
5. छिपकली सबसे चालाक निकली।

पाठ - 3
मूल्यवान कौन

I. एक शब्द में उत्तर लिखो।

1. राघव कौन सा पुस्तक पढ़ रहा था।
2. नौ के नौ अंक किस पर बरस पड़े?
3. ज़ीरो का दूसरा नाम क्या है?
4. हमें कैसा व्यवहार करना चाहिए?

II. किसने किससे कहा?

1. मैं तुमसे बड़ा हूँ।
2. मैं तुम चारों से महान हूँ।
3. मुझे भी अपने साथ रहने दो।
4. हमारे आगे आने की कोशिश मत करना।

III. पूरा करो।

1. किसी का नहीं करना चाहिए।
2. अंक ने सोचा, दो शून्य लगे तो मैं बन गया।
3. मैं तुम चारों से हूँ।

IV. सही या गलत।

1. जब हम अकेले थे, हमारा मूल्य बहुत कम था।
2. दस के साथ एक शून्य लगा तो मैं सौ बन गया।

पाठ - 4

पुष्प की अभिलाषा

I. उत्तर लिखो।

1. पुष्प की अभिलाषा का कवि कौन है?
2. पुष्प का समान शब्द क्या है?
3. किसने गहनें पहने हैं?
4. पुष्प किसके शव पर अपने आप को डालना चाहता है?
5. पुष्प को कौन तोड़ेगा?
6. इस कविता का रचयिता कौन है?

EVS
Chapter - 1
ALL IN THE FAMILY

I. Fill in the blanks:-

1. Relatives from mother's side are called relatives.
2. As we grow we change and
3. We get from sunlight.
4. As we grow old, our hair begins to turn
5. Vasu admires the picture.

II. Write True or False.

6. Parents and Children stay together is called a Joint Family.
7. A loose set of clothes worn by sports persons is called tracksuit.
8. We are more independent as we grew.
9. Milk is a healthy drink for healthy bones.
10. A person who does not take part in sports as running event is called an athlete.

Chapter - 4
SENSES OF TOUCH AND SMELL

I. Write one word answer:-

1. Which organ helps us to identify objects by smell?
2. How many sense organs do we have?
3. Which sense organ covers the body?
4. How do frogs breath?
5. Which wire like tubes send signals to the brain?

II. True or False

1. Helen Keller was a famous author.
2. Vikas uses the Braille script to read.

3. Certain things look pretty and harmless, but they may be poisonous.
4. There are good and bad touch.
5. Do not touch electric points as you get an electric shock

Chapter - 5

WORK WE DO

I. Match the following:

- | | |
|-----------------------|--|
| 1. Vocational College | Driving School |
| 2. Driver | to train different skills needed for an occupation |
| 3. Workshop | Constructs buildings |
| 4. Potter | Goods are made or repaired |
| 5. Civil Engineer | Makes clay pots |

II. Who am I?

6. I till the field, so crops may grow well.
7. I prescribe medicines when you are sick.
8. I learnt to fly an aeroplane.
9. I look after the passengers on a ship, train or an aeroplane.
10. I go to school every day.

Chapter - 7

ANIMALS AROUND US

I. Name the following:-

1. A group of owl.
2. An animal with internal ears -
3. An animal with long hair -
4. An animal which shows give and take relationship with cattle.
5. A group of buffaloes.

II. Give two examples each:

6. Friendly animals -
7. Animals with scales -
8. Animals with patterns on their coat or skin -

III. Give reason.

9. How do snakes hear as they don't have external ears?
10. Why many worker bees live in a hive?
11. Do all young ones look like their parents?

IV. Match the following:-

12. shrill - a sharp sound
13. prey - an animal that is hunted
14. squirrels - shy animals
15. monkeys - band
16. Male bees - drones

Chapter - 8

PLANTS AROUND US

I. Name the following:-

1. Lack of food for a long time in an area -
2. Plants which grew on other plants -
3. Plants with breathing roots -
4. Plants in and around their homes -

II. Give two examples:

5. Plants with fibrous roots-
6. Plants with tap root -
7. Medicinal trees -
8. Roots used during famine as food -
9. Leaves used to serve food -

III. Hot questions

10. Name a plant with large leaf.
11. Name two storage roots.
12. Why banyan trees look different from other trees?

IV. Match the following:-

- | | | |
|-----------------|---|-----------------|
| 13. Dodder | - | Parasitic plant |
| 14. Sundarbans- | | Mangrove forest |
| 15. Curry leaf | - | Kitchen garden |
| 16. Beetroot | - | Storage root |

Mathematics
Lesson - 1
PLACE VALUE

I. Fillup:-

1. Which digit is in the lakhs place in 398105.
2. What is the roman numeral for 29?
3. $3,00,000 + 5,000 + 70 = \dots\dots\dots$
4. Which of 100000, 99000,99909 and 99999 is the smallest.
5. The number 1000 more than 349000 is $\dots\dots\dots$
6. The successor of 15,999 is $\dots\dots\dots$
7. The greatest number that can be formed using the digits 1, 0, 3, 2, 5 is $\dots\dots\dots$
8. 1 less than 4,00,000 is $\dots\dots\dots$
9. 5299 rounded off to the nearest 100 is $\dots\dots\dots$
10. The next number in the set of numbers 2500, 3000, 3500, 4000 is $\dots\dots\dots$

II. Do as directed.

11. Compare the given number. Write $<$, $>$ or $=$
 - a) 29, 765 29,870
 - b) Four lakh seven 4,00,007
 - c) XX VIII
 - d) IX XI
12. The area of Rajasthan is “three lakh forty-two thousand two hundred thirty six” square km. Write the number in standard form and expanded form. Also round of the given area to the nearest 100.
13. What is the sum of the place value of the digit 5 in 507895?
14. Build the greatest and smallest numbers. Repeat digits where necessary.
 - a) 1, 2, 4, 0, 7

- i) Greatest 6 digit number =
- ii) Smallest 5 digit number =
15. Find the difference between the place value and face value of the digit 1 in 1,23,456.

Lesson - 2

ADDITION AND SUBTRACTION

I. Choose the correct answer.

1. What is the difference obtained when zero is subtracted from a number?
a) zero b) one c) The number itself
2. What must be added to 3956 to get 6935?
a) 2979 b) 3956 c) 3679
3. One more than which number is 72500.
a) 71499 b) 72501 c) 72499
4. What is the difference between 4753 and 8000?
a) 4247 b) 3247 c) 3257

II. Fillups:-

5. 3 more than 99,997 is
6. The sum of the smallest 6 digit and the greatest 5 number is
7. $5963 + \dots = 5963$
8. 100 less than ten thousand is
9. 3 thousand less than 38264 is

III. Do as directed:-

10. Solve:-
- a) Add 21,987 to 59,909
- b) $43,509 + 3640 + 12,563$
- c) Find the difference between 40,000 and 9999.

11. The difference between two number is 1234. If the bigger number is 4321. What is the other number?
12. By how much is 98,720 greater than 89,293?
13. What must be added to 79,415 to make two lakh forty thousand?

14.

Bill	
T-shirt	₹315.00
Pants	₹450.50
Handkerchief	₹75.50
Total	

Paid	
	500
	500

Find the total money due in this bill. If two ₹500 note were paid to the shopkeeper, then what was the amount received as change?

Lesson - 3

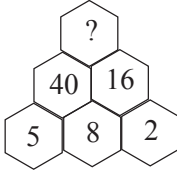
MULTIPLICATION

I. Fill ups:-

1. Write the multiplication fact for : $6 + 6 + 6 + 6 + 6 = 30$,
2. $350 \times 0 \times 350 = \dots\dots\dots$
3. Product of the smallest 1 digit number and the greatest 4 digit number is
4. $\dots\dots\dots \times 938 = 938$
5. $5769 \times 8 = \dots\dots\dots$
6. The product of the face value and place value of 5 in 15346 is
7. What number multiplied by itself gives 81?
8. The product of 5000×160 is
9. In 1 hour 925 loaves of bread can be baked. How many loaves can be baked in 12 hours?
10. Find the product: $10 \times 7 \times 8 \times 0 \times 25 = \dots\dots\dots$

II. Choose the correct answer:

11. Fill in the missing number.

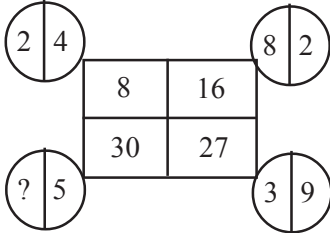


a) 630

b) 640

c) 650

12. Find the missing term in the following

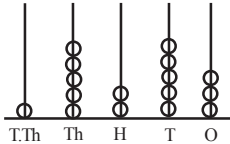


a) 5

b) 6

c) 8

13. What is the product of the place values of '5' as shown on the abacus?



a) 50000

b) 250000

c) 25000

14. Fill in the blanks with $<$, $>$ or $=$

5×70 200

a) $>$

b) $=$

c) $<$

15. What number should replace the letter 'p' to make the following number sentence true? $3 \times p \times 2 = 30$

a) $p = 5$

b) $p = 10$

c) $p = 6$

III. Do as directed:-

16. Multiply

a) 576 by 600

b) 489×345

17. If 1 kg of sweets costs ₹240.75, find the cost of 5 kg of sweets.

18. Narges likes to eat a banana every day. If one banan cost ₹0.75, how much does she spend on banana in the month of April?

19. A shopkeeper packs 569 balloons in each pack. How many balloons will be there in 4 dozen packs?
20. What is 234 added to itself 100 times?

Lesson - 9
Shapes, Spaces

I. Fill ups:-

1. A is a quadrilateral in which opposite sides are equal.
2. A circle is a shape.
3. The length of the circle is called
4. The diameter is always twice the

II. Do as directed.

5. Use the compass to draw a circle of radius 4cm and write the diameter of the circle.
6. Find the radius of the circle with the diameter 14 cm.
7. Find the diameter of circle with the radius 7 cm.
8. What is polygon? Name any two polygons.
